



# Сардиналардың қозғалысы

АТЫ-ЖӨНІ: .....

СЫНЫБЫ: .....

КҮНІ: .....

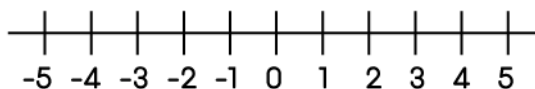
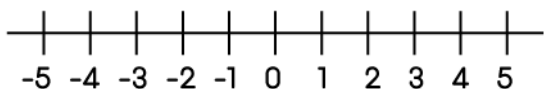


## Негізгі деңгей

1) Төмендегі қосындыларды сандар осінде көрсетіңіз:

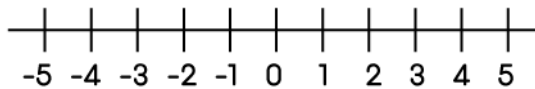
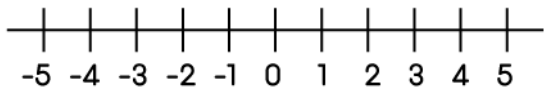
a)  $-2 + 5$

b)  $2 + (-5)$



c)  $4 - 7$

d)  $-4 - (-5)$



2) Температура өзгерісін табыңыз:

a)  $-2^{\circ}\text{C}$ -тан  $8^{\circ}\text{C}$ -қа жоғарылағанда

b)  $-20^{\circ}\text{C}$ -тан  $30^{\circ}\text{C}$ -қа төмендегенде

c)  $11^{\circ}\text{C}$ -тан  $16^{\circ}\text{C}$ -қа төмендегенде

d)  $-8^{\circ}\text{C}$ -тан  $11^{\circ}\text{C}$ -қа төмендегенде

3) Есептеңіз:

a)  $-1 + 2$

b)  $-4 + 6$

c)  $-3 + 1$

d)  $-2 + 4$

e)  $-6 + 2$

f)  $-3 + 3$

g)  $14 + (-11)$

h)  $0 + (-7)$

i)  $5 - (-2)$




# Сардиналардың қозғалысы

АТЫ-ЖӨНІ: .....

СЫНЫБЫ: .....

КҮНІ: .....



## Орташа деңгей

1) Мына сандарды ең кішісінен бастап өсу ретімен орналастырыңыз:

a) -3, 4, -2, -4                      b) -5, 6, -7, 2

2) Есептеңіз:

a)  $1 - 4$                                       b)  $2 - (-3)$                                       c)  $-1 - 4$

d)  $-1 - (-3)$                                       e)  $-2 - 7$                                       f)  $-4 - (-10)$

g)  $-9 - 9$                                       h)  $-60 - (-70)$                                       i)  $2 - 19$

3) Температура өзгерісін табыңыз:

a)  $15^{\circ}\text{C}$ -тан  $25^{\circ}\text{C}$ -қа төмендегенде                      b)  $-14^{\circ}\text{C}$ -тан  $6^{\circ}\text{C}$ -қа жоғарылағанда

c)  $-30^{\circ}\text{C}$ -тан  $23^{\circ}\text{C}$ -қа жоғарылағанда                      d)  $-45^{\circ}\text{C}$ -тан  $8^{\circ}\text{C}$ -қа төмендегенде

4) Дэй мырзаның банктегі шотында £35 болды. Ол шотынан £70 алды. Оның банктегі шотының жаңа теңгерімі қандай?

5) Өуе шары жерден 100 м биіктікте ұшып бара жатыр. Сүңгуір қайық теңіз деңгейінен 40 м тереңдікте жүзіп жүр. Олардың арақашықтығы нешеге тең?



# Сардиналардың қозғалысы

АТЫ-ЖӨНІ: .....

СЫНЫБЫ: .....

КҮНІ: .....



## Тереңдетілген деңгей

1) Есептеңіз

a)  $15 + 3 - 6 =$

b)  $46 - 7 + 32 =$

c)  $360 + 175 - 35 =$

2) Төмендегілерді есептеңіз:

a)  $3 + (-8) =$

b)  $-5 \times 7 =$

c)  $-5 - (-4) =$

d)  $-9 \div -3 =$

e)  $4 - (-9) =$

f)  $-15 \times (-2) =$

g)  $24 \div (-4) =$

h)  $9 \times (-8) =$

i)  $-2 \times 5 \times (-3) =$

j)  $5 - (-2) + (-13) =$

k)  $6 + (-9) - (-2) =$

l)  $144 \div (-12) =$



# Сардиналардың қозғалысы

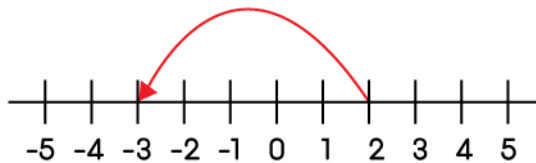
## ЖАУАПТАР

### Негізгі деңгей

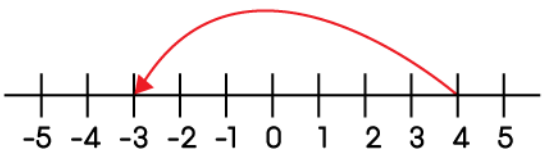
1a)



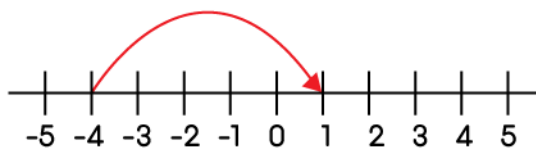
1b)



1c)



1d)



2) a) 6°C

b) -50°C

c) -5°C

d) -19°C

3) a) 1

b) 2

c) -2

d) 2

e) -4

f) 0

g) 3

h) -7

i) 7

### Орташа деңгей

1) a) -4, -3, -2, 4

b) -7, -5, 2, 6

2) a) -3

b) 5

c) -5

d) 2

e) -9

f) 6

g) -18

h) 10

i) -17

3) a) -10°C

b) -8°C

c) -7°C

d) -53°C

4) -£35 (£35 несиелік шектен асқан)

5) 140 м

### Тереңдетілген деңгей

1a) 12

b) 71

c) 500

2) a) -5

b) -35

c) -1

d) 3

e) 13

f) 30

g) -6

h) -72

i) 30

j) -6

k) -1

l) -12