



Метр қаншалықты ұзын?

АТЫ-ЖӨНІ:

СЫНЫБЫ:

КҮНІ:



Негізгі деңгей

1) Сызғышты қолданбай, төмендегі кесінділердің ұзындығын тауып көріңіздер: (жауапты сантиметрмен (см) беріңіздер).

- a) _____
- b) _____
- c) _____
- d) _____

Әр кесіндіні сызғышпен өлшеп, жауаптарыңның қаншалықты дұрыс болғанын анықтаңыздар.

- a) _____ b) _____ c) _____ d) _____

2) Өлшеу құралдарын қолданбай, сыныптарыңның келесі өлшемдерін жуықтап айтып көріңіздер:

- a) сынып бөлмесінің ұзындығы b) сынып бөлмесінің биіктігі c) есік биіктігі

3) Келесілердің өлшемдерін жуықтап тауып көріңіздер:

- a) футбол қақпасының биіктігі b) футбол қақпасының ені
- c) футбол алаңының ені d) футбол алаңының ұзындығы

Айтылғандардың шын өлшемін тауып, оларды өздеріңіздің жауаптарыңызбен салыстырыңыздар.



Метр қаншалықты ұзын?

Негізгі деңгей

4) Төмендегі сантиметрлерді (см) миллиметрлермен (мм) жазыңыздар:

- a) 3 см b) 10 см c) 7 см d) 5,1 см e) 0,8 см

5) Төмендегі миллиметрлерді (мм) сантиметрлермен (см) жазыңыздар:

- a) 80 мм b) 90 мм c) 69 мм d) 135 мм e) 2 мм

6) Төмендегі метрлерді (м) сантиметрлермен (см) жазыңыздар:

- a) 4 м b) 2,7 м c) 8,5 м d) 2,81 м e) 10,78 м

7) Төмендегі сантиметрлерді (см) метрлермен (м) жазыңыздар:

- a) 200 см b) 124 см c) 98 см d) 226 см e) 4000 см



Метр қаншалықты ұзын?

АТЫ-ЖӨНІ:

СЫНЫБЫ:

КҮНІ:



Орташа деңгей

1) Төмендегі сантиметрлерді (см) миллиметрлермен (мм) жазыңыздар:

- a) 3 см b) 10 см c) 7 см d) 5,1 см e) 0,8 см

2) Төмендегі миллиметрлерді (мм) сантиметрлермен (см) жазыңыздар:

- a) 80 мм b) 90 мм c) 69 мм d) 135 мм e) 2 мм

3) Төмендегі метрлерді (м) сантиметрлермен (см) жазыңыздар:

- a) 4 м b) 2,7 м c) 8,5 м d) 2,81 м e) 10,78 м

4) Төмендегі сантиметрлерді (см) метрлермен (м) жазыңыздар:

- a) 200 см b) 124 см c) 98 см d) 226 см e) 4000 см

5) Төмендегі километрлерді (км) метрлермен (м) жазыңыздар:

- a) 5 км b) 9,1 км c) 16 км d) 5,5 км e) 13,44 км



Метр қаншалықты ұзын?

Орташа деңгей

6) Төмендегі метрлерді (м) километрлермен (км) жазыңыздар:

a) 7000 м

b) 4000 м

c) 3520 м

d) 11 000 м

e) 1624 м

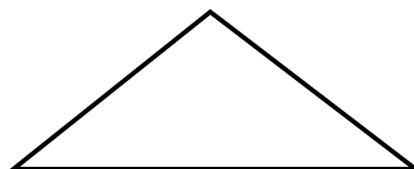
7) Бес дос бала бойларын өлшеді. Арматтың бойы 1,62 м, Қанаттікі 146 см, Қасымдікі 147 см, Нұрболдікі 1,36 м және Артурдікі 1,55 м. Барлық балалардың бойларының ұзындықтарының қосындысы нешеге тең?

8) Келесі фигуралардың қажетті өлшемдерін өлшей отырып, олардың периметрлерін табыңыздар (жауапты сантиметрмен жазыңыздар):

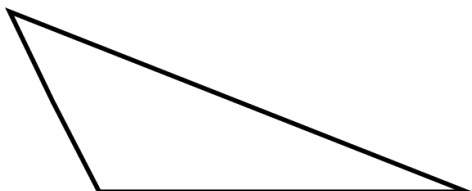
a)



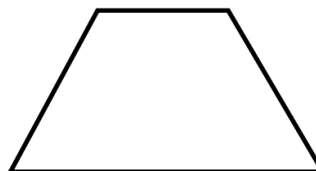
b)



c)



d)





Метр қаншалықты ұзын?

АТЫ-ЖӨНІ:

СЫНЫБЫ:

КҮНІ:



Тереңдетілген деңгей

1) Төмендегі метрлерді (м) сантиметрлермен (см) жазыңыздар:

- a) 4 м b) 2,7 м c) 8,5 м d) 2,81 м e) 10,78 м

2) Төмендегі сантиметрлерді (см) метрлермен (м) жазыңдар:

- a) 200 см b) 124 см c) 98 см d) 226 см e) 4000 см

3) Төмендегі километрлерді (км) метрлермен (м) жазыңыздар:

- a) 5 км b) 9,1 км c) 16 км d) 5,5 км e) 13,44 км

4) Төмендегі метрлерді (м) километрлермен (км) жазыңыздар:

- a) 7000 м b) 4000 м c) 3520 м d) 11 000 м e) 1624 м



Метр қаншалықты ұзын?

Тереңдетілген деңгей

5) Төмендегі шаршы метрлерді (m^2) шаршы сантиметрлермен (cm^2) жазыңыздар:

- a) $2 m^2$ b) $5 m^2$ c) $2,5 m^2$ d) $12,1 m^2$ e) $1,78 m^2$

6) Төмендегі шаршы сантиметрлерді (cm^2) шаршы метрлермен (m^2) жазыңыздар:

- a) $50\,000 cm^2$ b) $124\,000 cm^2$ c) $9800 cm^2$ d) $22\,600 cm^2$

7) Төмендегі кестені толтырыңыз:

Шаршы қабырғасы (см)	Шаршы периметрі (см)	Шаршы ауданы (cm^2)
1		
2		
4		
8		
16		



Метр қаншалықты ұзын?

ЖАУАПТАР

Негізгі деңгей

- 1) a) 5,6 см b) 3,5 см c) 11,5 см d) 9,5 см
- 4) a) 30 мм b) 100 мм c) 70 мм d) 51 мм e) 8 мм
- 5) a) 8 см b) 9 см c) 6,9 см d) 13,5 см e) 0,2 см
- 6) a) 400 см b) 270 см c) 850 см d) 281 см e) 1078 см
- 7) a) 2 м b) 1,24 м c) 0,98 м d) 2,26 м e) 40 м

Орташа деңгей

- 1) a) 30 мм b) 100 мм c) 70 мм d) 51 мм e) 8 мм
- 2) a) 8 см b) 9 см c) 6,9 см d) 13,5 см e) 0,2 см
- 3) a) 400 см b) 270 см c) 850 см d) 281 см e) 1078 см
- 4) a) 2 м b) 1,24 м c) 0,98 м d) 2,26 м e) 40 м
- 5) a) 5000 м b) 9100 м c) 16 000 м d) 5500 м e) 13 440 м
- 6) a) 7 км b) 4 км c) 3,52 км d) 11 км e) 1,624 км
- 7) 7,46 м
- 8) a) 11,8 см b) 11,4 см c) 13,3 см d) 10,1 см

Тереңдетілген деңгей

- 1) a) 400 см b) 270 см c) 850 см d) 281 см e) 1078 см
- 2) a) 2 м b) 1,24 м c) 0,98 м d) 2,26 м e) 40 м
- 3) a) 5000 м b) 9100 м c) 16 000 м d) 5500 м e) 13 440 м
- 4) a) 7 км b) 4 км c) 3,52 км d) 11 км e) 1,624 км
- 5) a) 20 000 см² b) 50 000 см² c) 25 000 см² d) 121 000 см² e) 17 800 см²
- 6) a) 5 м² b) 12,4 м² c) 0,98 м² d) 2,26 м²
- 7)

Шаршы қабырғасы (см)	Шаршы периметрі (см)	Шаршы ауданы (см ²)
1	4	1
2	8	4
4	16	16
8	32	64
16	64	256