



Алтын қатынас тарихы

АТЫ-ЖӨНІ:

СЫНЫБЫ:

КҮНІ:



Негізгі деңгей

1) Келесі сандарды қысқартыңыздар:

a) 5:20

b) 14:21

c) 36:18

d) 105:100

2) Келесі өрнектерді қысқартыңыздар:

a) 36:40

b) 6 мм : 3 см

c) 2,5 м : 6 м

3) Бөлме өлшемдері: ұзындығы – 12 м; ені – 8 м. Келесі қатынастарды табыңыз:

a) ұзындықтың еніне?

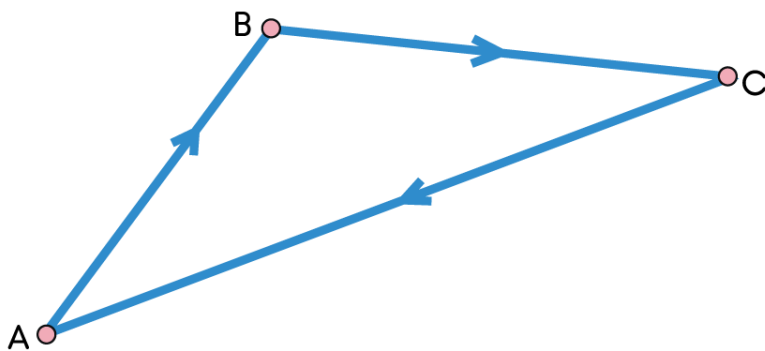
b) енінің ұзындығына?



Алтын қатынас тарихы

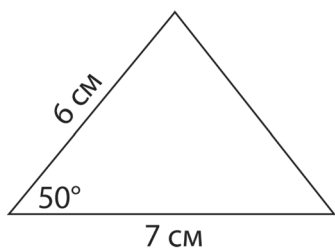
Негізгі деңгей

4) Жарыс жолының бағыты келесідей: А пунктiнен басталып, В пунктi арқылы С пунктiне барып, керi А-ға оралу. 1 см = 50 км масштабты қолданып, жарыс жолының ұзындығын табыңыздар.

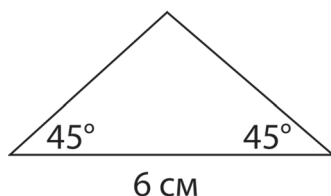


5) Келесi үшбұрыштарды барынша дәлділікпен салыңыздар.

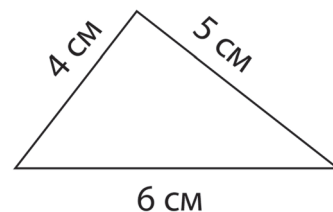
a)



b)



c)





Алтын қатынас тарихы

АТЫ-ЖӨНІ:

СЫНЫБЫ:

КҮНІ:



Орташа деңгей

1) Келесі сандарды қысқартыңыздар:

a) 5:20

b) 14:21

c) 36:18

d) 105:100

2) Келесі өрнектерді қысқартыңыздар:

a) 36:40

b) 6 мм : 3 см

c) 2,5 м : 6 м

3) Келесі өрнектерді 1:n түрінде жазыңыздар:

a) 3:18

b) 4:10

c) 4:31

d) 4:15

4) Қабырғалары a, b және c болатын үшбұрыш периметрі 75 см-ге тең. b ның a-ға қатынасы 3:5, ал c-ның a-ға қатынасы 7:5 тең. Өр қабырғаның ұзындығын табыңыздар.

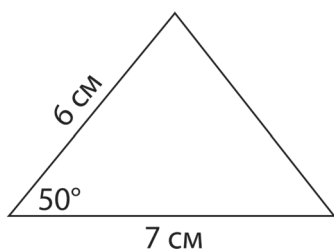


Алтын қатынас тарихы

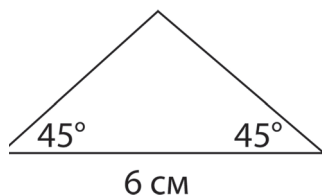
Орташа деңгей

5) Келесі үшбұрыштарды барынша дәлділікпен салыңыздар.

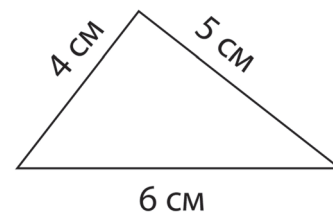
a)



b)



c)



6) Қағаз өлшемдерінің стандартты форматтары келесідей:

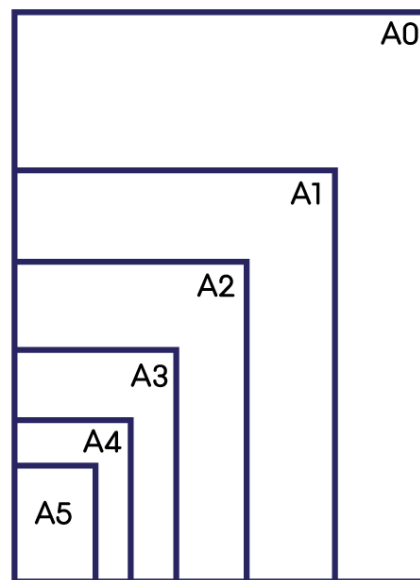
• A0 ауданы – 1 м², A1 ауданы – 0,5 м², A2 – 0,25 м², осылай әрі қарай кете береді.

• Барлық форматтар ұқсас.

• A1 форматы A0 форматының жартысына тең. Яғни, A1 ұзындығы A0 форматының еніне тең, ал A1 ені A0 форматының ұзындығының жартысына тең. Дәл осы секілді, A2 форматы A1 форматының жартысына тең.

a) Өр қағаз форматының ені мен ұзындығының қатынасы қандай?

b) A4 қағазының ені мен ұзындығының өлшемдерін табыңыздар.





Алтын қатынас тарихы

АТЫ-ЖӨНІ:

СЫНЫБЫ:

КҮНІ:



Тереңдетілген деңгей

1) Келесі өрнектерді $1:n$ түрінде жазыңдар:

a) 3:18

b) 4:10

c) 4:31

d) 4:15

2) Қабырғалары a , b және c болатын үшбұрыш периметрі 75 см-ге тең. b ның a -ға қатынасы 3:5, ал c -ның a -ға қатынасы 7:5 тең. Өр қабырғаның ұзындығын табыңыздар.

3) Қағаз өлшемдерінің стандартты форматтары келесідей:

- A0 ауданы – 1 м^2 , A1 ауданы – $0,5 \text{ м}^2$, A2 – $0,25 \text{ м}^2$, осылай әрі қарай кете береді.

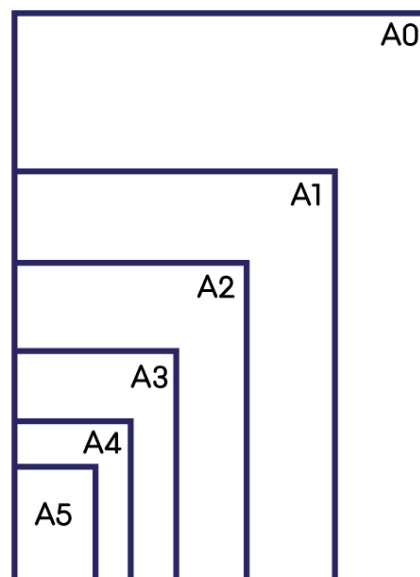
- Барлық форматтар ұқсас.

- A1 форматы A0 форматының жартысына тең. Яғни, A1 ұзындығы A0 форматының еніне тең, ал A1 ені A0 форматының ұзындығының жартысына тең. Дәл осы секілді, A2 форматы A1 форматының жартысына тең.

a) Өр қағаз форматының ені мен ұзындығының қатынасы қандай?

b) A4 қағазының ені мен ұзындығының өлшемдерін табыңыздар.

c) Егер сіз A3 форматтағы суретті A4 форматына ауыстырғыңыз келсе, онда қандай төмендету процентін қолданатын едіңіз?





Алтын қатынас тарихы

Тереңдетілген деңгей

4) Асхана сызбасы келесідей талаптарға сай келу керек:

- Асхана тік бұрышты параллелепипед пішінінде болу қажет.
- Оның ауданы 15 м^2 -ден артық, алайда 30 м^2 -ден кем болу керек.
- Асхана еденінің диагоналі 7 м-ден кем болмау қажет.
- Еденнен төбеге дейінгі диагональ, еденмен 15° пен 25° арасындағы бұрыш құрау қажет.
- Асхана биіктігі 3 м-ге артық, бірақ 2 м-ден кем болмауы керек.

Жоғарыдағы талаптарға сай келетін асхана макетін салып көріңіздер.



Алтын қатынас тарихы

ЖАУАПТАР

Негізгі деңгей

- 1) a) 1:4 b) 2:3 c) 2:1 d) 21:20
- 2) a) 9:10 b) 1:5 c) 5:12
- 3) a) 3:2 b) 2:3
- 4) 720 км

Орташа деңгей

- 1) a) 1:4 b) 2:3 c) 2:1 d) 21:20
- 2) a) 9:10 b) 1:5 c) 5:12
- 3) a) 1:6 b) 1:2,5 c) 1:7,75 d) 1:3,75
- 4) a = 25 см; b = 15 см; c = 35 см
- 6) a) 1:1,414 b) 210 мм × 297 мм

Тереңдетілген деңгей

- 1) a) 1:6 b) 1:2,5 c) 1:7,75 d) 1:3,75
- 2) a = 25 см; b = 15 см; c = 35 см
- 3) a) 1:1,414 b) 210 мм × 297 мм c) 70,7%