



Желілер: Лабиринттер мен мәйздер

АТЫ-ЖӨНІ:

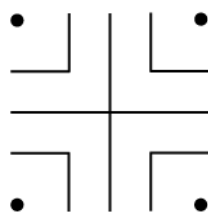
СЫНЫБЫ:

КҮНІ:



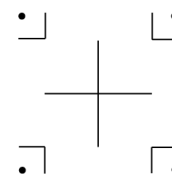
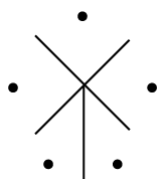
Негізгі деңгей / Орташа деңгей

1) Төмендегі квадранттық диаграмманың негізінде лабиринт салыңыз.



2) Лабиринтіңізді аяқтаған соң, түрлі түстерді пайдалана отырып, лабиринттің сыртынан центріне өтетін жолды көрсетіңіз.

3) Лабиринт салуға басқа да бөліктерді пайдалануға болады. Төмендегі бөліктерді пайдаланып, лабиринтті толықтырыңыз.





Желілер: Лабиринттер мен мәйздер

АТЫ-ЖӨНІ:

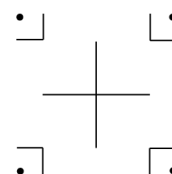
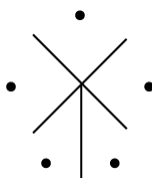
СЫНЫБЫ:

КҮНІ:

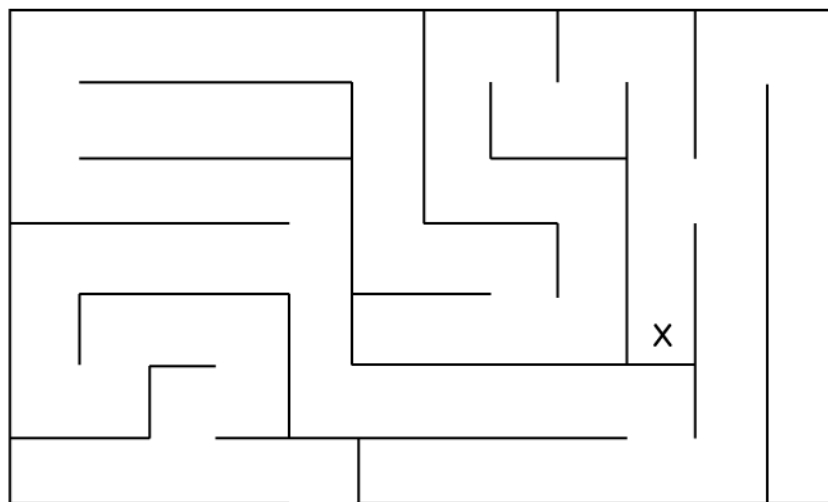


Тереңдетілген деңгей

1) Төмендегі бөліктерді пайдаланып, лабиринт салыңыз.



2) а) Төмендегі лабиринт бойынша желілік кесте салыңыз:



б) X-ке жететін екі мүмкін жолды көрсетіңіз.

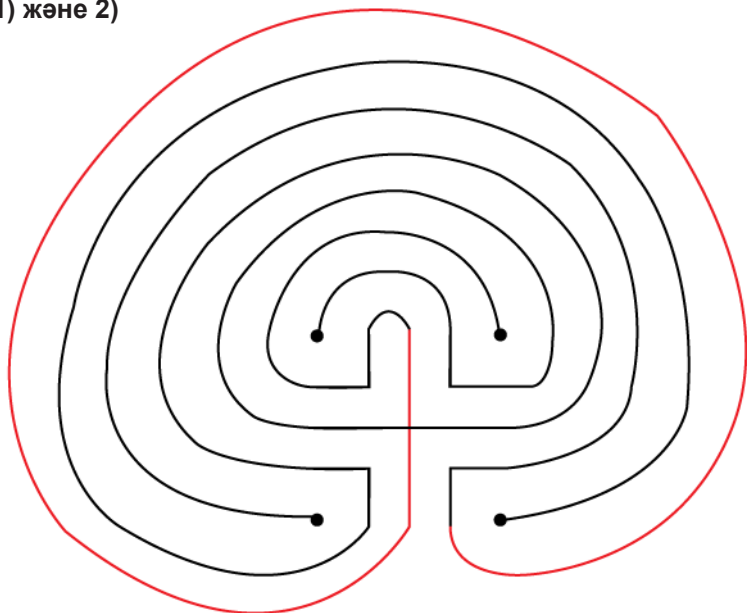


Желілер: Лабиринттер мен мэйздер

Жауаптар

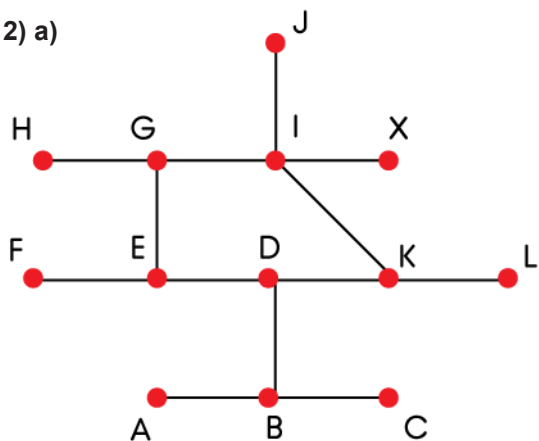
Негізгі деңгей / Орташа деңгей

1) және 2)



Тереңдетілген деңгей

2) а)



б) A-B-D-E-G-I-X; A-B-D-K-I-X