



# Тәж Махалдың симметрия сызықтары

АТЫ-ЖӨНІ: .....

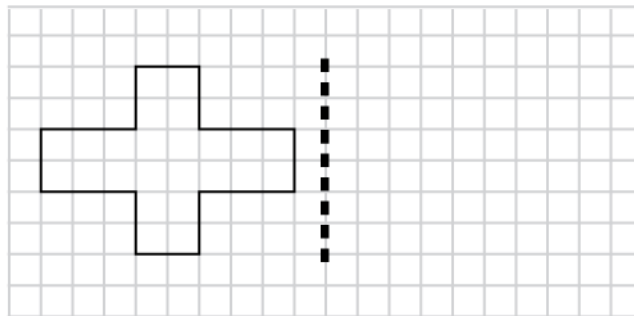
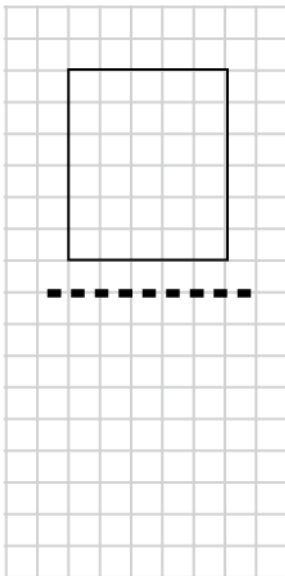
СЫНЫБЫ: .....

КҮНІ: .....

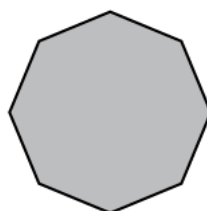


## Негізгі деңгей

1) Симметрия сызықтарының көмегімен, берілген фигураның кескінін салыңыз.



2) Төмендегі фигуралардың симметрия сызықтарын белгілеңіз:





# Тәж Махалдың симметрия сызықтары

АТЫ-ЖӨНІ: .....

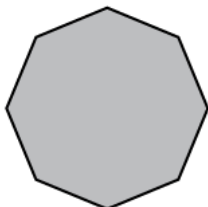
СЫНЫБЫ: .....

КҮНІ: .....

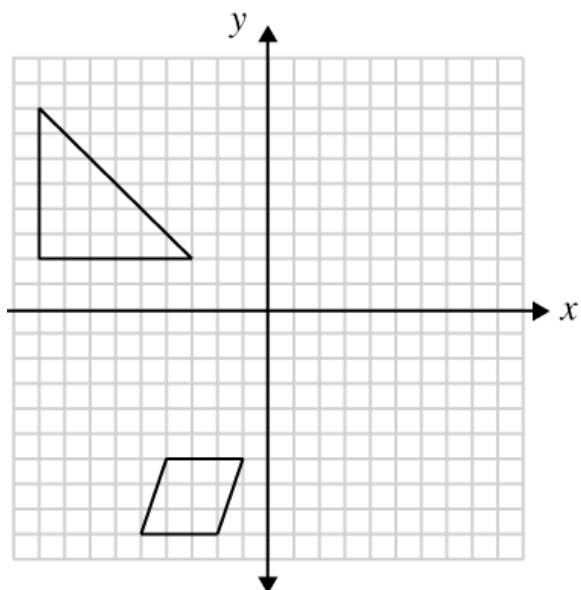


## Орташа деңгей

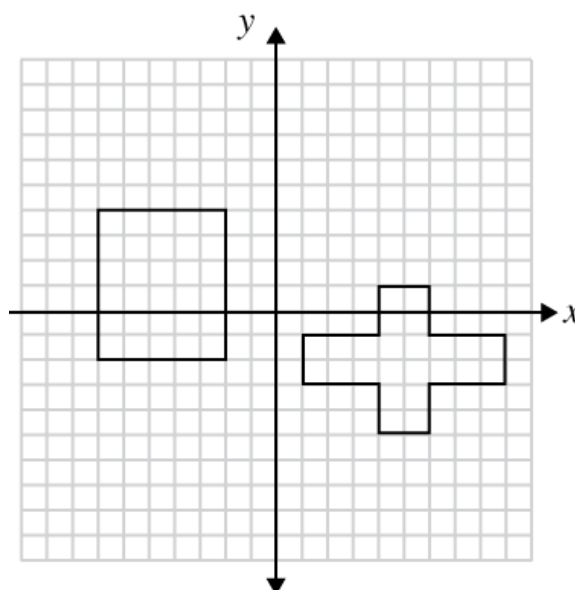
1) Төмендегі фигуралардың симметрия сызықтарын белгілеңіз:



2) Фигураларды  $y$  осі бойынша шағылдырыңыз.



3) Фигураларды  $x$  осі бойынша шағылдырыңыз.





# Тәж Махалдың симметрия сызықтары

АТЫ-ЖӨНІ: .....

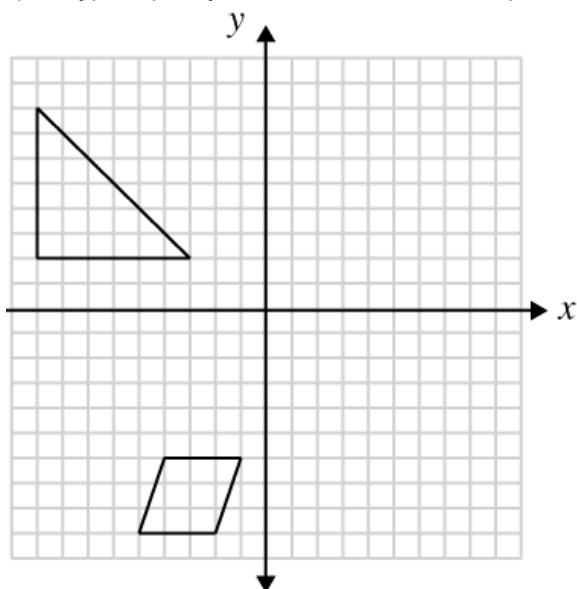
СЫНЫБЫ: .....

КҮНІ: .....

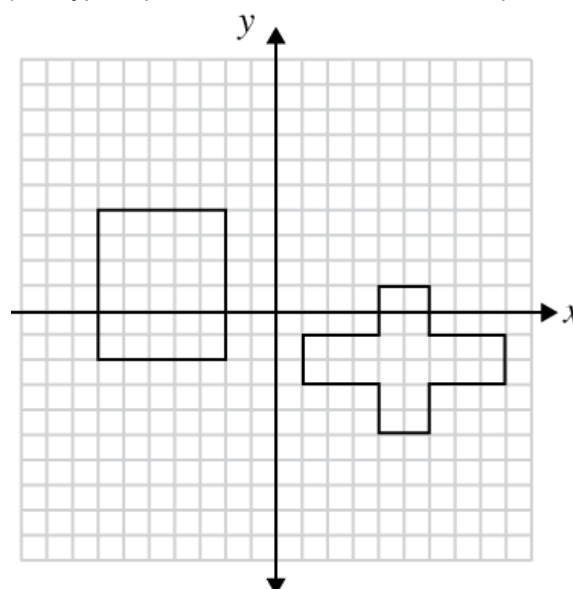


## Тереңдетілген деңгей

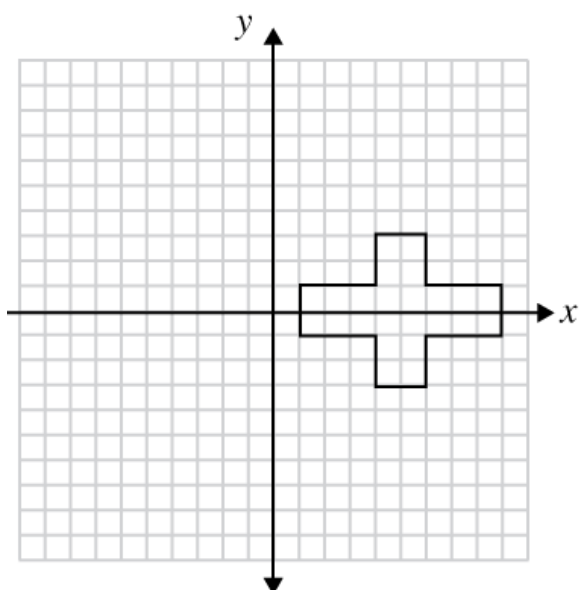
1) Фигураларды  $y$  осі бойынша шағылдырыңыз.



2) Фигураларды  $x$  осі бойынша шағылдырыңыз.



3) Фигураларды  $y = x$  түзуі бойынша шағылдырыңыз.



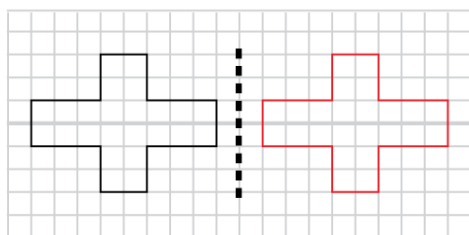
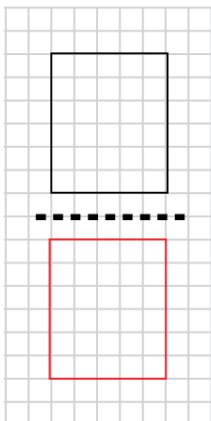


# Тәж Махалдың СИММЕТРИЯ СЫЗЫҚТАРЫ

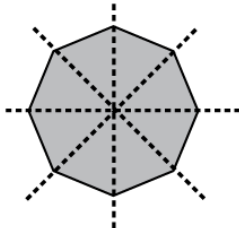
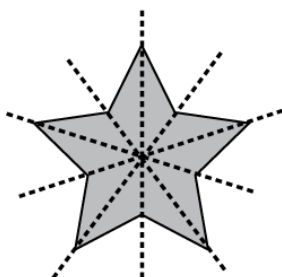
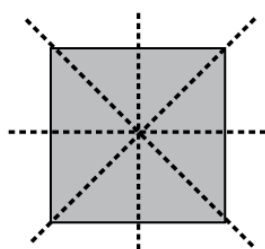
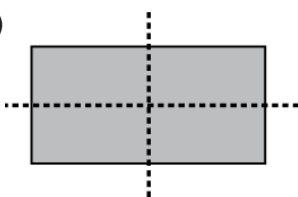
Жауаптар

Негізгі деңгей

1)

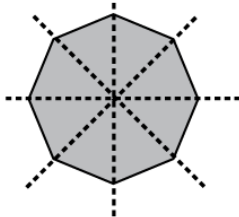
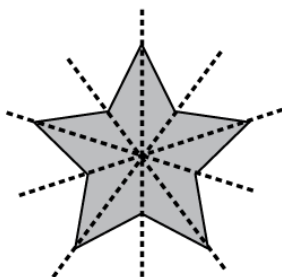
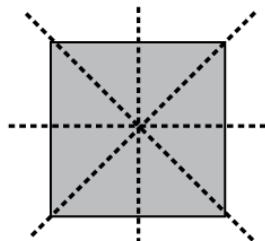
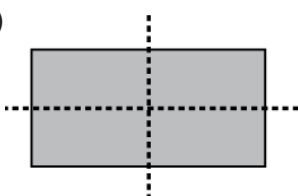


2)



Орташа деңгей

1)

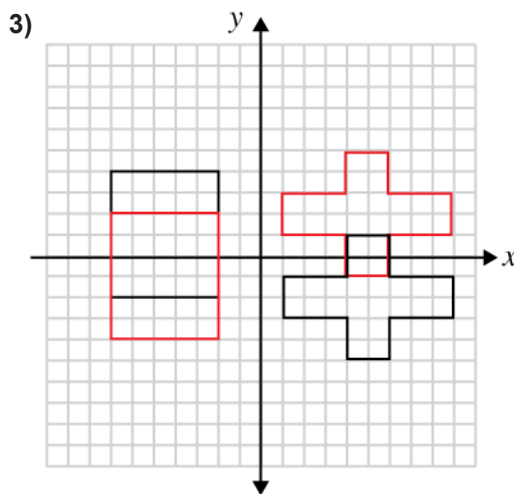
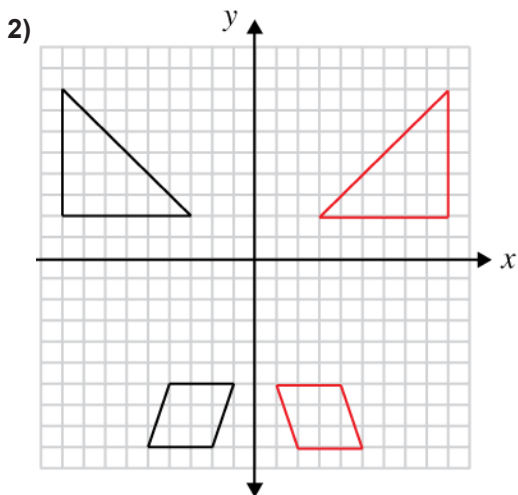




# Тәж Махалдың СИММЕТРИЯ СЫЗЫҚТАРЫ

## Жауаптар

### Орташа деңгей



### Тереңдетілген деңгей

